

Grado 5 Unidad 1

Lección 3

CC BY 2021 Illustrative Mathematics®

Unit 1 Lesson 3: Dibujos y volúmenes de prismas

WU Conversación numérica: Multiplicación (Warm up)

Student Task Statement

Encuentra mentalmente el valor de cada expresión.

- 6×4
- $3 \times 2 \times 4$
- $3 \times 2 \times 5$
- $3 \times 2 \times 6$




1 Construyamos prismas rectangulares

Student Task Statement

Los prismas de estas tarjetas están completamente llenos de cubos unitarios.

1. Toma una tarjeta.
2. Construye el prisma rectangular.
3. Encuentra su volumen. Explícale a tu compañero cómo encontraste el volumen.
4. Repite estos pasos.




2 Capas, capas y más capas


Student Task Statement

Estos prismas están completamente llenos de cubos unitarios. Encuentra el volumen de cada prisma. Explica o muestra tu razonamiento.

1.



2.



3.

