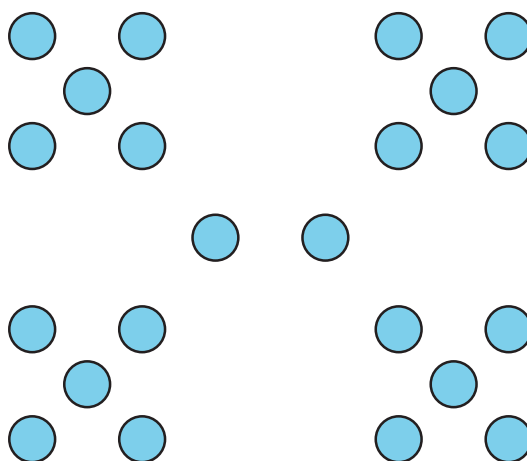
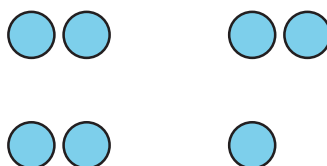


Lección 7: Respondamos preguntas sobre gráficas de barras con escala

- Respondamos preguntas sobre datos representados en gráficas de barras.

Calentamiento: Cuántos ves: Grupos de puntos

¿Cuántos ves? ¿Cómo lo sabes?, ¿qué ves?



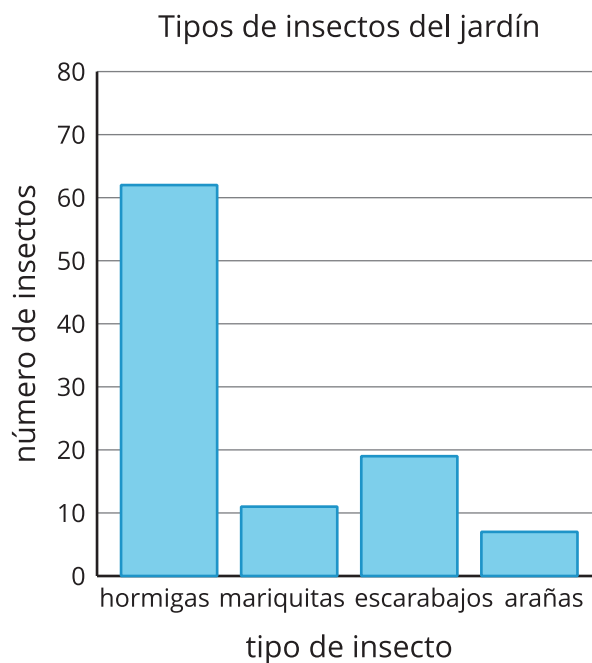
7.1: Preguntas sobre el momento favorito del año

Usa tu gráfica sobre los momentos favoritos del año para responder a las preguntas. Muestra cómo pensaste. Usa expresiones o ecuaciones.

1. ¿Cuántos estudiantes están representados en la gráfica?
2. ¿Cuántos estudiantes escogieron primavera u otoño como su momento favorito?
3. ¿Cuántos estudiantes más escogieron verano que invierno?
4. ¿Cuántos estudiantes menos escogieron primavera que otoño?

7.2: Preguntas sobre insectos del jardín

Se recolectaron datos para saber cuántos insectos de cada tipo había en un jardín. Los datos se muestran en esta gráfica de barras:



Usa la gráfica de barras para contestar las preguntas. Muestra cómo pensaste. Usa expresiones o ecuaciones.

1. ¿Cuántos insectos había en el jardín?
2. ¿Cuántas hormigas más que arañas había en el jardín?
3. ¿Cuántas mariquitas menos que hormigas había?

4. Con tu pareja, escriban 2 preguntas que se puedan hacer sobre los insectos del jardín.

5. Intercambien las preguntas con otra pareja y contéstenlas.

