


Lección 6: Distancia alrededor de las figuras

- Encontremos la distancia alrededor de las figuras.

Calentamiento: Observa y pregúntate: Clips y figuras

¿Qué observas? ¿Qué te preguntas?



6.1: ¿Qué se necesita para construir las figuras?

Su profesor les va a dar cuatro figuras en unas hojas y algunos clips.

En grupo, decidan para cuál figura se necesitan más clips para construirla. Expliquen o muestren cómo lo saben. Anoten aquí lo que encontraron. Si les ayuda, hagan dibujos.

A

B

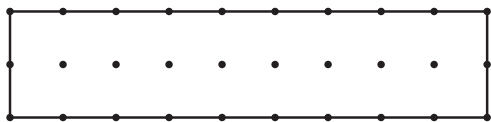
C

D

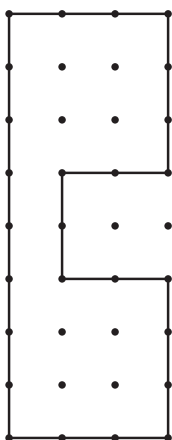
6.2: Distancia alrededor

Encuentra el perímetro de cada figura. Explica o muestra tu razonamiento.

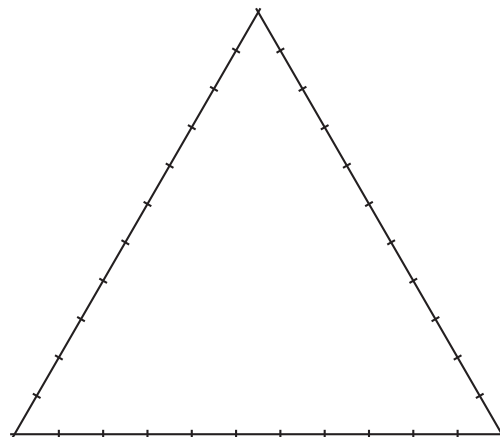
A



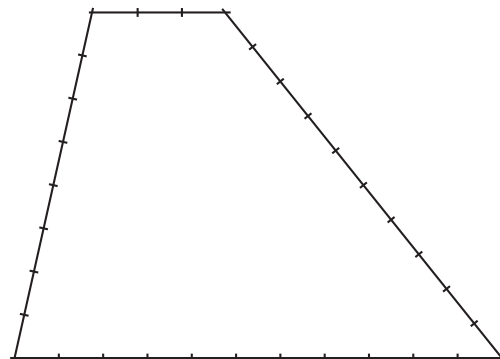
B



C



D



E

