

Grado 4 Unidad 7

Lección 15


CC BY 2021 Illustrative Mathematics®

Unit 7 Lesson 15: Razonemos sobre ángulos (parte 2)

WU Cuántos ves: Ángulos obtusos (Warm up)

Student Task Statement

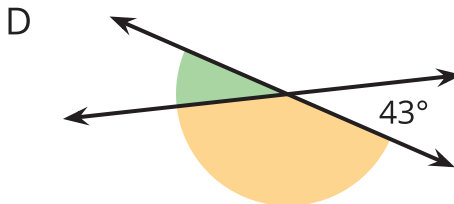
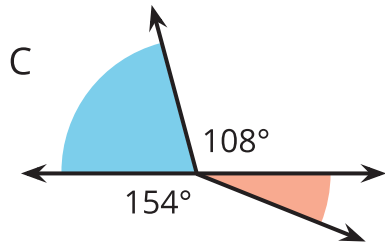
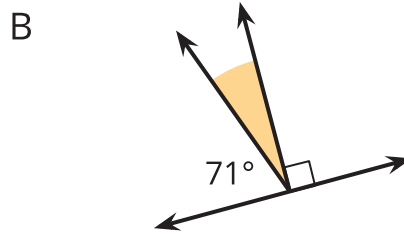
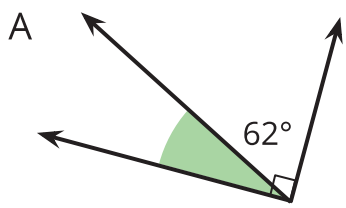
¿Cuántos ángulos ves en el corazón de papel doblado?



1 Ángulos sombreados y sin sombrear

Student Task Statement

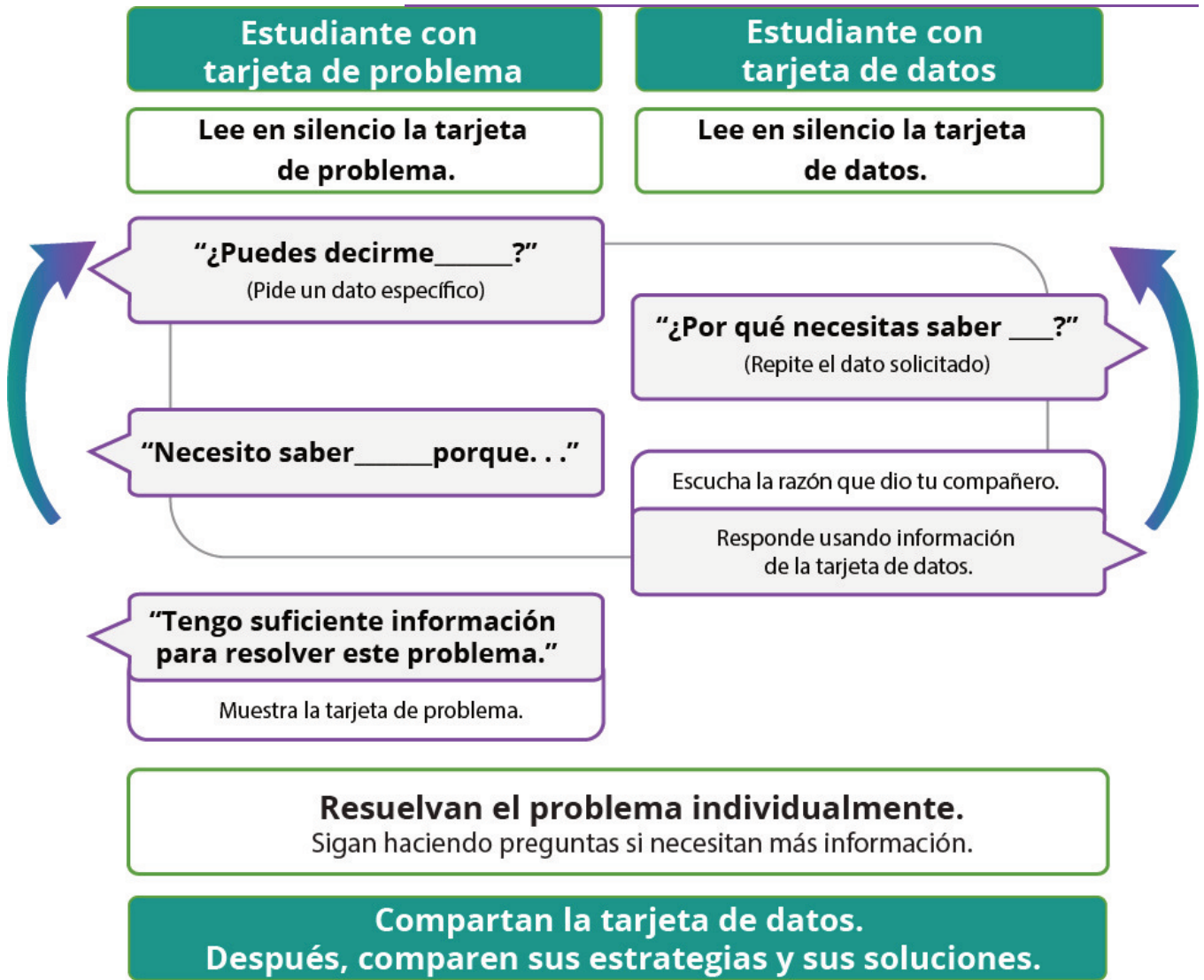
Encuentra la medida de los ángulos que están sombreados. Muestra cómo lo sabes.



2 Falta de información: Una gran cantidad de ángulos

Student Task Statement

Tu profesor te dará una tarjeta de problema o una tarjeta de datos. No se la muestres ni se la leas a tu compañero.



Haz una pausa aquí para que tu profesor pueda revisar tu trabajo. Pídele al profesor un nuevo grupo de tarjetas. Intercambia roles con tu compañero y repite la actividad.

Images for Activity Synthesis

