

Grado 1 Unidad 1

Lección 2

CC BY 2021 Illustrative Mathematics®

Unit 1 Lesson 2: Exploremos expresiones y sumas

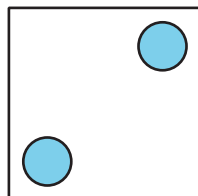
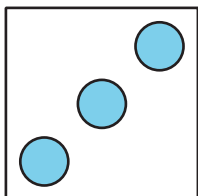
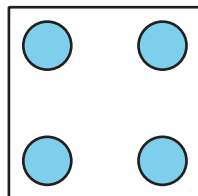
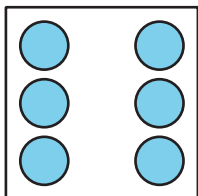
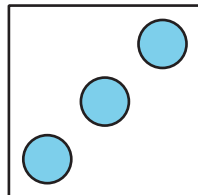
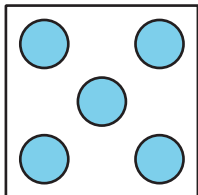
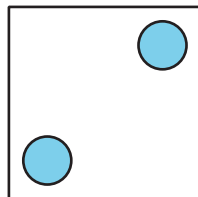
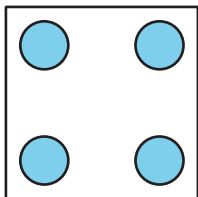
WU Conteo grupal: Contemos hasta 41 (Warm up)

Student Task Statement

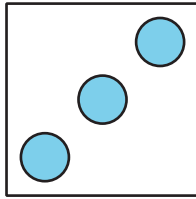
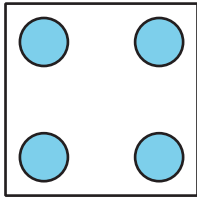
1 Emparejemos expresiones con tarjetas de puntos

Student Task Statement


Empareja cada pareja de puntos con una expresión. Después, encuentra el total.



expresión	total
$3 + 2$	
$4 + 2$	
$5 + 3$	
$6 + 4$	
$4 + 3$	




Dibuja los puntos que faltan para que el dibujo corresponda a la expresión. Después, encuentra el total.





Expresión: $4 + 2$

Total: _____



Expresión: $5 + 2$

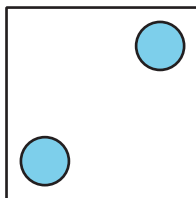
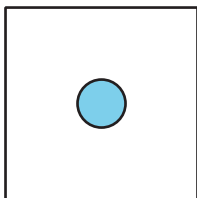
Total: _____



Expresión: $2 + 6$

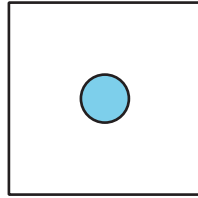
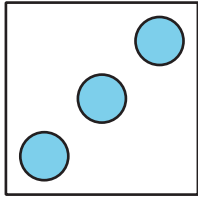
Total: _____

Escribe la expresión que falta para que corresponda a los puntos. Después, encuentra el total.



Expresión: _____

Total: _____



Expresión: _____

Total: _____

2 Conozcamos "Márcalo: Suma hasta 10"

Student Task Statement