

Grado 5 Unidad 2

Lección 9

CC BY 2021 Illustrative Mathematics®

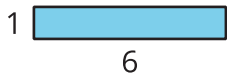
Unit 2 Lesson 9: Relacionemos el área con la multiplicación

WU Cuál es diferente: Área (Warm up)

Student Task Statement

¿Cuál es diferente?

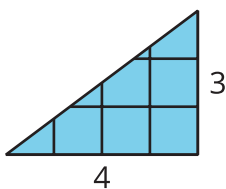
A



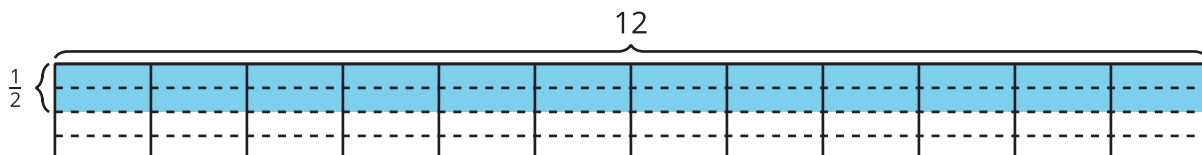
B



C



D

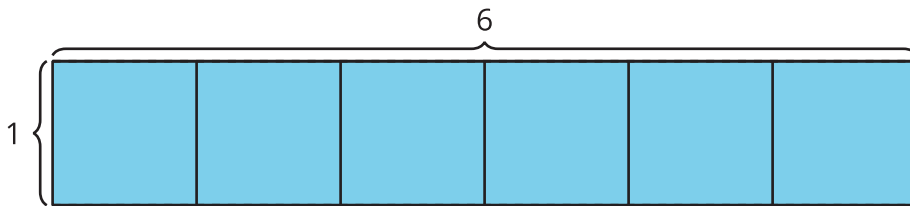


1 Encontremos el área

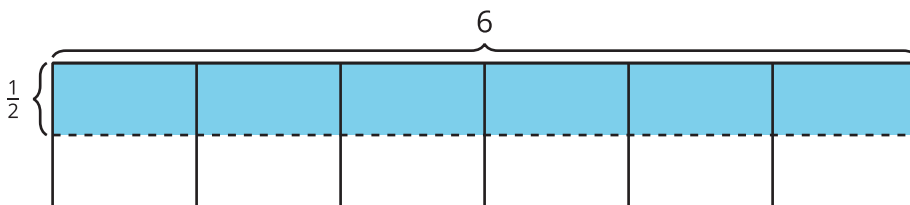
Student Task Statement

Encuentra el área de la región sombreada. Explica o muestra tu razonamiento.

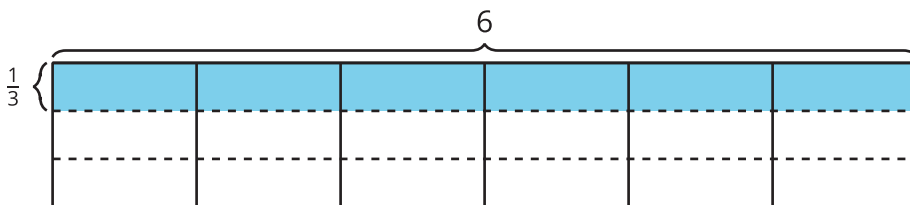
1.



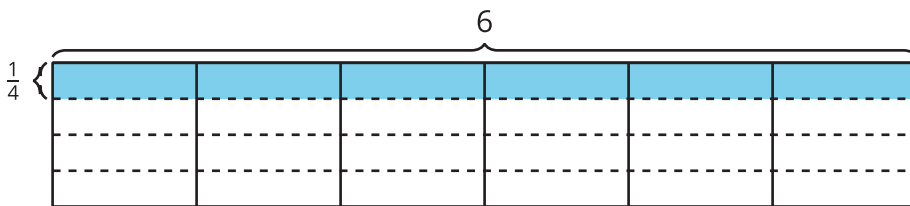
2.



3.



4.



2 Dibujemos rectángulos

Student Task Statement

1. Dibuja cada rectángulo en una hoja cuadrículada:

- $\frac{1}{2}$ unidad por 1 unidad
- $\frac{1}{2}$ unidad por 2 unidades
- $\frac{1}{2}$ unidad por 3 unidades

-
- $\frac{1}{2}$ unidad por 4 unidades

2. Encuentra el área de cada rectángulo que dibujaste.
3. ¿Qué información necesitas para encontrar el área de la región sombreada?



4. ¿Cuál podría ser el área de la región sombreada? Explica o muestra tu razonamiento.