

Grado 3 Unidad 5

Lección 10

CC BY 2021 Illustrative Mathematics®

Unit 5 Lesson 10: Fracciones equivalentes

WU Conteo grupal: Medios (Warm up)

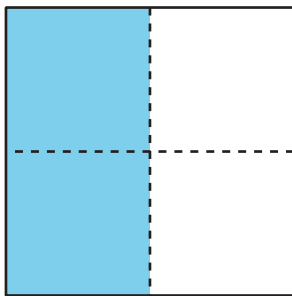
Student Task Statement

1 Equivalente a $\frac{1}{2}$

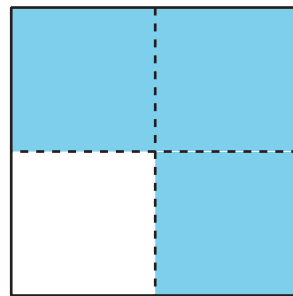
Student Task Statement

1. ¿En cuáles figuras la sección sombreada es $\frac{1}{2}$ de la figura? Prepárate para explicar tu razonamiento.


A



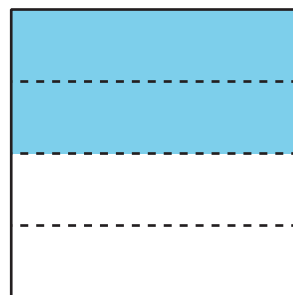
B



C



D



E

F



2. ¿Cómo puede haber más de una manera de colorear una figura para mostrar $\frac{1}{2}$?

2 Encontremos fracciones equivalentes

Student Task Statement

Usa las tiras de fracciones que usaste en una lección anterior para encontrar tantas fracciones como puedas que sean equivalentes a:

1. $\frac{1}{2}$
2. $\frac{2}{3}$
3. $\frac{6}{6}$
4. $\frac{3}{4}$

Prepárate para mostrar cómo sabes que las fracciones son equivalentes.