

Grado 1 Unidad 4

Lección 21

CC BY 2021 Illustrative Mathematics®

Unit 4 Lesson 21: Comparemos números de dos dígitos que se muestran de maneras diferentes

WU Conversación numérica: Sumas hasta 20 (Warm up)

Student Task Statement

Encuentra mentalmente el valor de cada expresión.

- $10 + 6$
- $9 + 6$
- $10 + 7$
- $8 + 7$

1 Elena y Kiran comparan colecciones

Student Task Statement

Elena y Kiran comparan sus colecciones.

Elena dice: “Tengo 5 decenas 32 unidades”.

Kiran dice: “Tengo 7 decenas 2 unidades”.

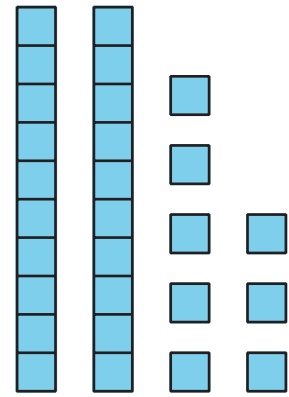
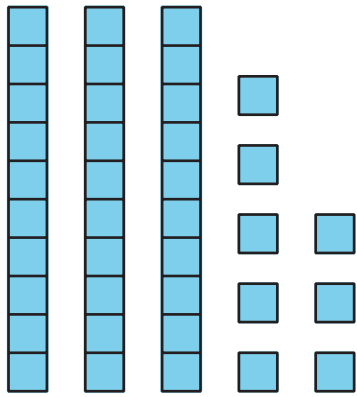
¿Quién tiene más en su colección?

Muestra cómo pensaste. Usa dibujos, números, palabras o expresiones.

2 Comparemos representaciones en base diez

Student Task Statement

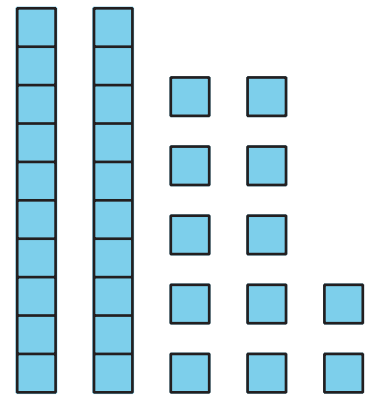
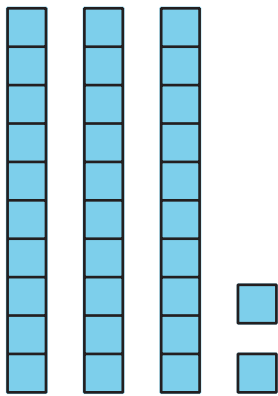
1. ¿Qué observas?



□ _ □

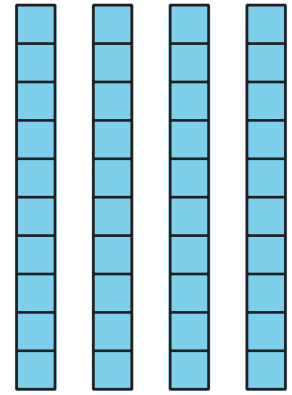
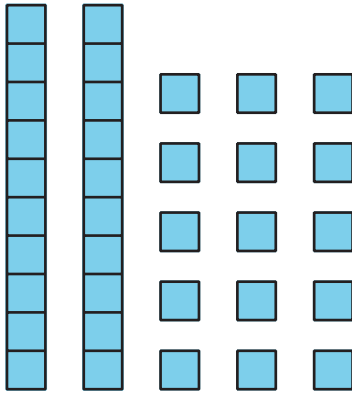
2. Marca la representación que muestra el número mayor.
 Escribe un número que corresponda a cada representación.
 Después, usa <, > o = para escribir una afirmación de comparación.

a.



□ _ □

b.



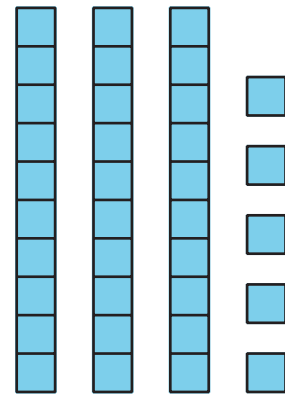
	—	
--	---	--

c. 5 decenas 2 unidades

12 unidades 3 decenas

	—	
--	---	--

d. 1 decena 25 unidades



	—	
--	---	--

e. 7 decenas 29 unidades

50 + 39

	—	
--	---	--