

## Grado 3 Unidad 2

Lección 13

CC BY 2021 Illustrative Mathematics®

## Unit 2 Lesson 13: Encontramos el área de algunas figuras

### WU Conversación numérica: Extendamos formar una decena (Warm up)

#### Student Task Statement

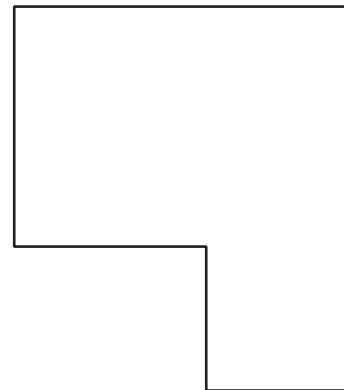
Encuentra mentalmente el valor de cada expresión.

- $109 + 4$
- $109 + 14$
- $209 + 34$
- $219 + 34$

### 1 Adiós a los cuadrados

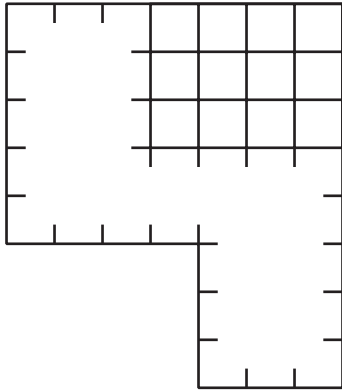
#### Student Task Statement

¿Qué observas? ¿Qué te preguntas?

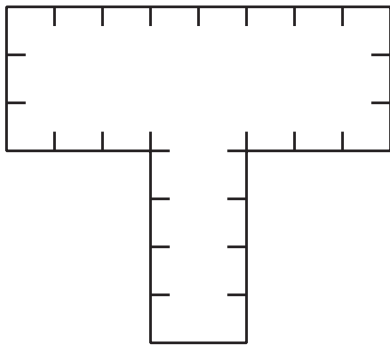


Encuentra el área de cada figura. Explica o muestra tu razonamiento.

1.



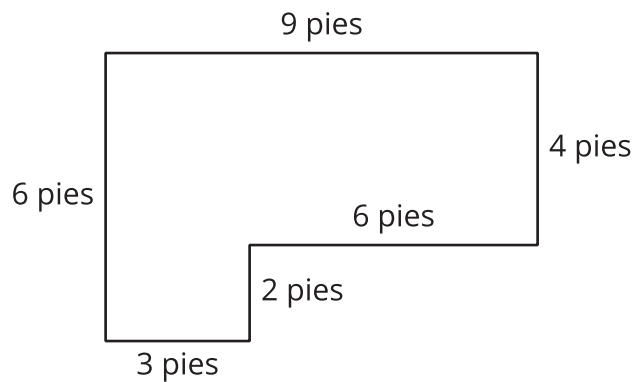
2.



## 2 ¿Cuántos adoquines necesitamos?

### Student Task Statement

Noah quiere usar adoquines de 1 pie cuadrado para hacer un patio pequeño en la huerta comunitaria. Este es un diagrama del patio.



1. ¿Cuántos adoquines de 1 pie cuadrado necesitará Noah para cubrir todo el patio?
2. ¿Cuál es el área del patio? Explica o muestra tu razonamiento.

