

**Grado 1 Unidad 4**

Lección 10

CC BY 2021 Illustrative Mathematics®

## Unit 4 Lesson 10: Escribamos números de dos dígitos


### WU Observa y pregúntate: Mismo dígito, posición diferente (Warm up)

#### Student Task Statement

¿Qué observas?


¿Qué te preguntas?

**A**



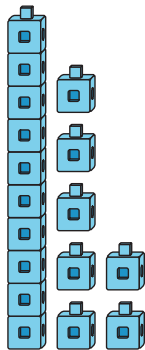
7

**B**




70

**C**



17

**D**



71

---

# 1 Escribamos números que correspondan a representaciones en base diez

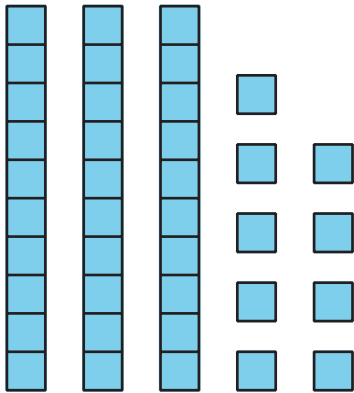
## Student Task Statement

Escribe el número que corresponda a cada representación.

1. 1 decena 4 unidades

Número: \_\_\_\_\_

2.



Número: \_\_\_\_\_

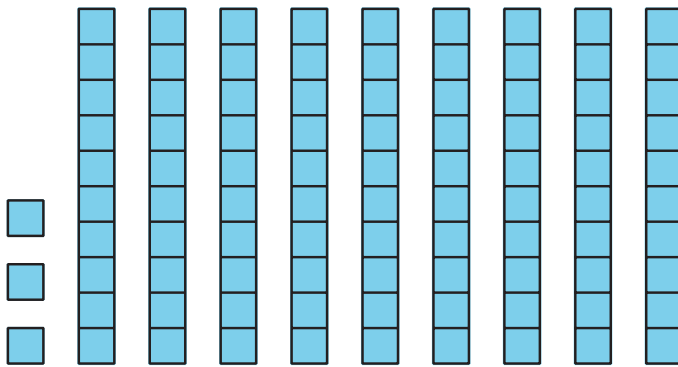
3. 9 decenas

Número: \_\_\_\_\_

4.  $20 + 5$

Número: \_\_\_\_\_

5.



Número: \_\_\_\_\_

6.  $7 + 40$

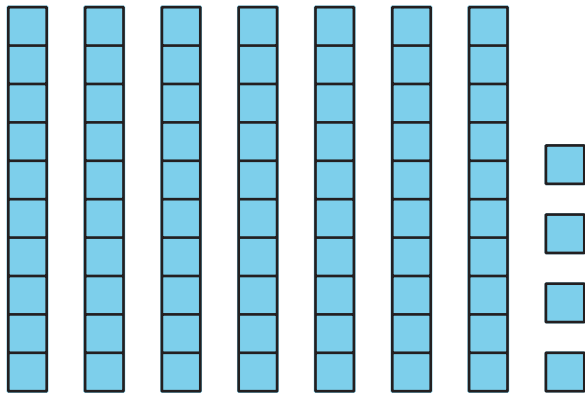
Número: \_\_\_\_\_

7. 2 unidades 8 decenas

Número: \_\_\_\_\_

8.

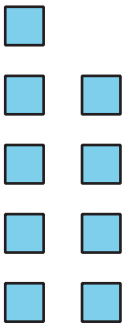
Número: \_\_\_\_\_



9.  $1 + 40$

Número: \_\_\_\_\_

10.



Número: \_\_\_\_\_

## 2 Conozcamos "Escribe números: Números hasta el 99 de 1 en 1"

Student Task Statement