



## Lección 7: Juntemos figuras planas

- Construyamos una nueva figura usando figuras más pequeñas.

### Calentamiento: Observa y pregúntate: Perros

¿Qué observas?

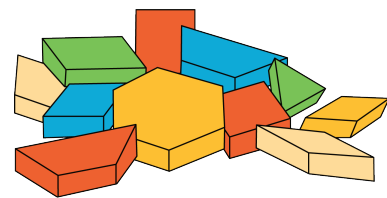
¿Qué te preguntas?



## 7.2: Imágenes de figuras

1. Construye algo usando las fichas geométricas.

Traza lo que hiciste y escribe cuántas fichas geométricas usaste.



2. Arma el mismo objeto que hiciste usando fichas geométricas diferentes.

Escribe cuántas fichas geométricas usaste.

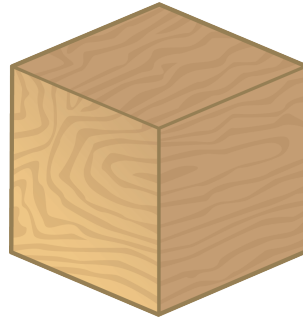

Si te queda tiempo: construye el mismo objeto otra vez usando la mayor cantidad de fichas geométricas que puedas.

Escribe cuántas fichas geométricas usaste.

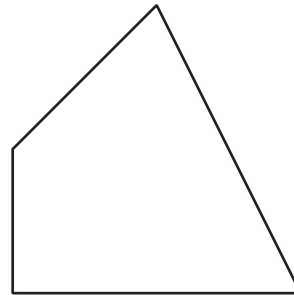
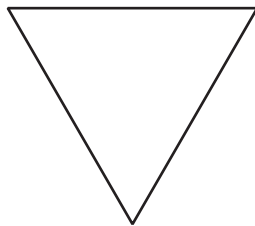
## Section Summary

Section Summary

Aprendimos sobre figuras sólidas.



Aprendimos sobre figuras planas.

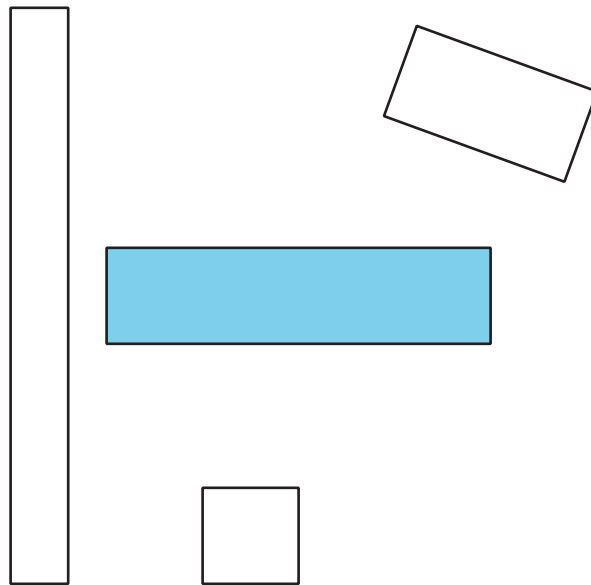


Describimos y nombramos figuras.

Esta figura es un triángulo porque tiene 3 lados rectos y 3 esquinas.



Todas estas figuras son rectángulos porque tienen 4 lados rectos y 4 esquinas cuadradas.



Construimos figuras más grandes usando figuras más pequeñas.

