

Grado 3 Unidad 7

Lección 6


CC BY 2021 Illustrative Mathematics®

Unit 7 Lesson 6: Distancia alrededor de las figuras

WU Observa y pregúntate: Clips y figuras (Warm up)

Student Task Statement

¿Qué observas? ¿Qué te preguntas?



1 ¿Qué se necesita para construir las figuras?

Student Task Statement

Su profesor les va a dar cuatro figuras en unas hojas y algunos clips.

En grupo, decidan para cuál figura se necesitan más clips para construirla. Expliquen o muestren cómo lo saben. Anoten aquí lo que encontraron. Si les ayuda, hagan dibujos.

A

B

C

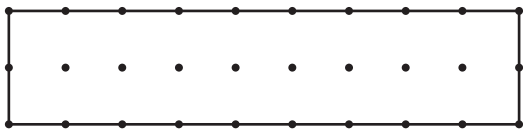
D

2 Distancia alrededor

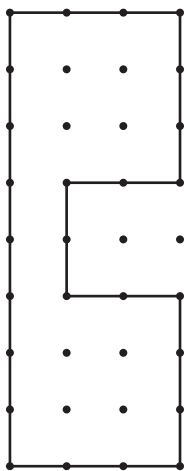
Student Task Statement

Encuentra el perímetro de cada figura.
Explica o muestra tu razonamiento.

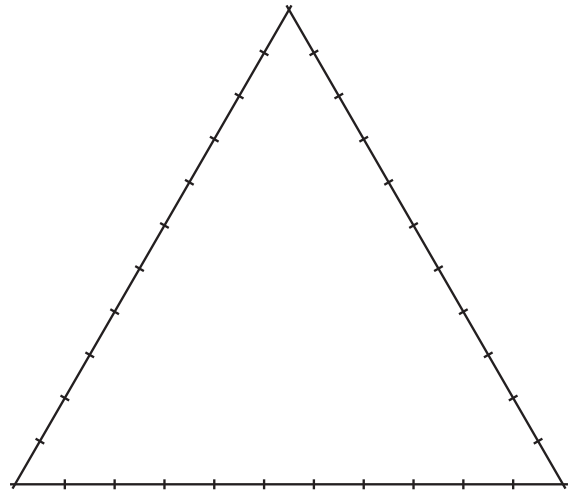
A



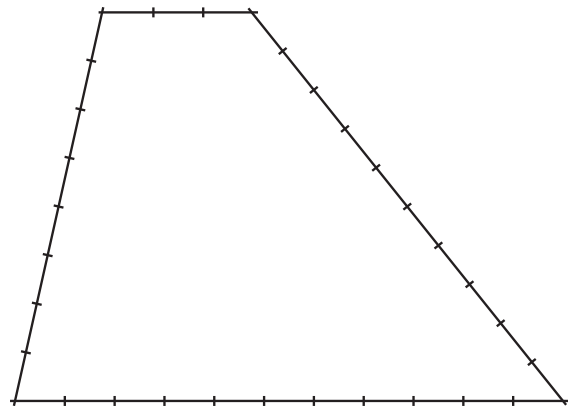
B



C



D



E

