

## Lección 14: La mitad del reloj

- Conozcamos más sobre cómo leer el reloj a la media hora.

### Calentamiento: Conversación numérica: Trabajemos con el 30

Encuentra mentalmente el valor de cada expresión.

- $30 + 10$

- $30 + 15$

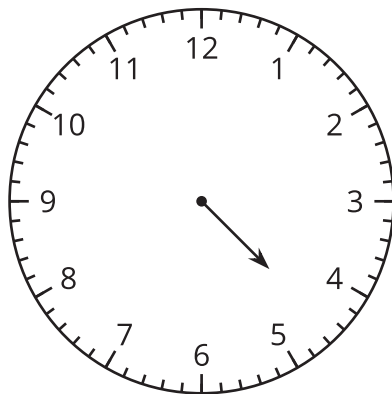
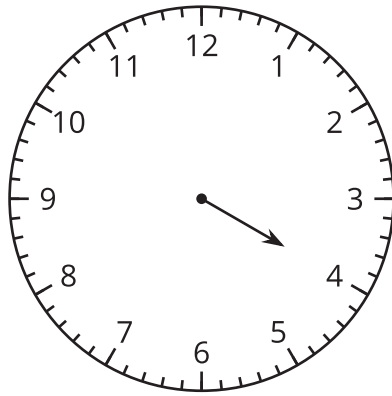
- $30 + 30$

- $30 + 35$

## 14.1: Ordenemos horas

¿Qué observas?

¿Qué te preguntas?



## 14.2: ¿Qué hora y media?

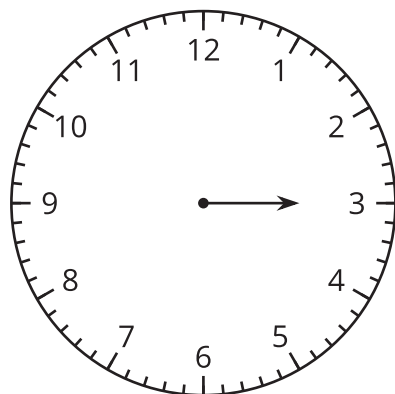
¿Qué hora se muestra en cada reloj?

Si es una hora y media, colorea de rojo el reloj.

Si es una hora en punto, colorea de azul el reloj.

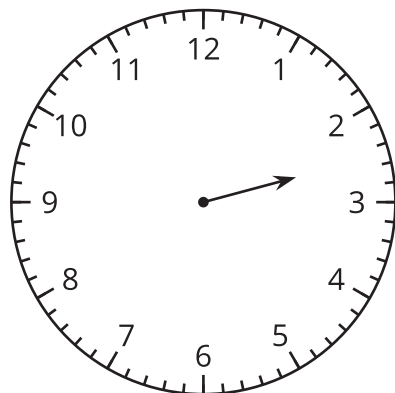
Escribe la hora en palabras. Usa las palabras **y media** o **en punto**.

1.



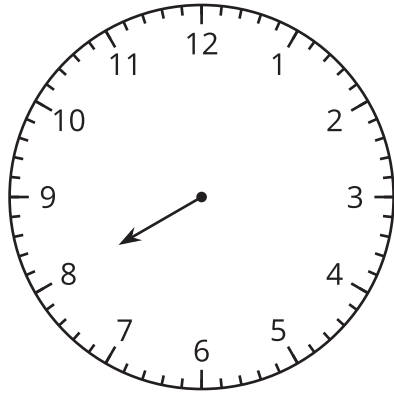

---

2.



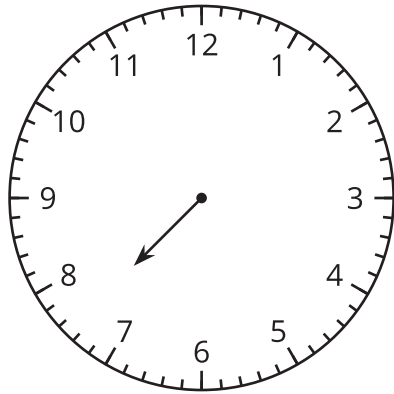

---

3.



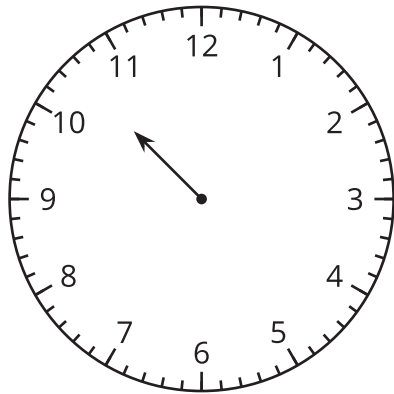
---

4.



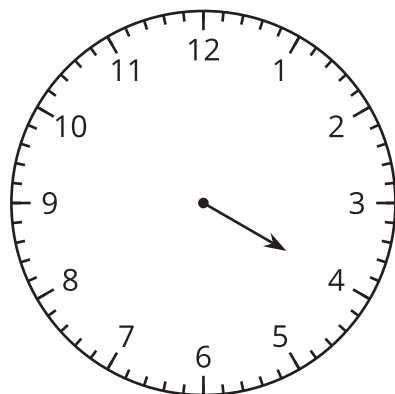
---

5.



---

6.



---



### 14.3: Observa y pregúntate: Las manecillas del reloj giran y giran

