

Lección 1: Exploremos estimaciones con fracciones

- Exploremos estimaciones con fracciones.

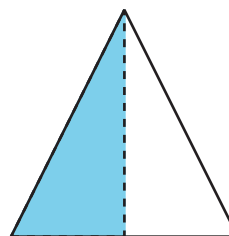
Calentamiento: Cuál es diferente: Fracciones

¿Cuál es diferente?

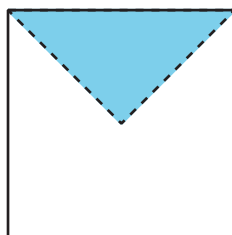
A



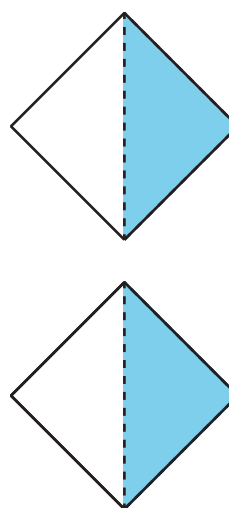
B



C

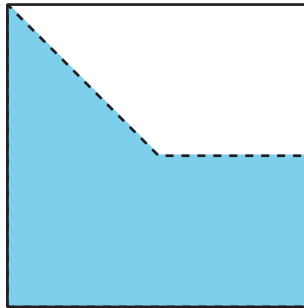


D



1.1: Exploración de estimación: Diagrama

¿Qué fracción del cuadrado está sombreada?




Escribe una estimación que sea:

muy baja	razonable	muy alta

1.2: Exploración de estimación: Tira de fracciones

¿Qué fracción de la tira está sombreada?

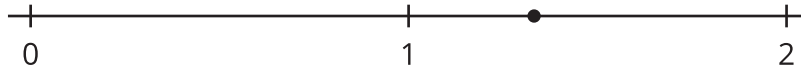


Escribe una estimación que sea:

muy baja	razonable	muy alta

1.3: Exploración de estimación: Recta numérica

¿Qué número está representado por el punto?



Escribe una estimación que sea:

muy baja	razonable	muy alta