

Lección 8: Sumemos y restemos fracciones

- Sumemos y restemos fracciones.

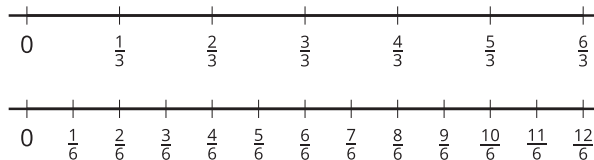
Calentamiento: Cuál es diferente: Representaciones de fracciones

¿Cuál es diferente?

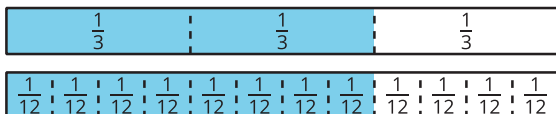
A



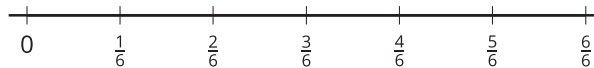
B



C



D



8.1: Clasificación de tarjetas: Sumas y diferencias de fracciones

Tu profesor te va a dar un grupo de tarjetas que muestran expresiones.

1. Clasifica las tarjetas en 2 categorías, las que quieras. Prepárate para explicar el significado de tus categorías.
2. Clasifica las tarjetas en otras 2 categorías que sean diferentes a las anteriores. Prepárate para explicar el significado de tus nuevas categorías.

8.2: Sumemos y restemos

Encuentra el valor de cada expresión. Explica o muestra cómo pensaste.

1. $\frac{2}{3} + \frac{2}{3}$

2. $\frac{2}{3} - \frac{1}{6}$

3. $\frac{2}{3} + \frac{1}{2}$