

# Lección 10: Escribamos números de dos dígitos

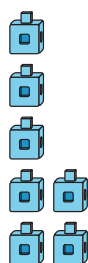
- Escribamos números de dos dígitos.

## Calentamiento: Observa y pregúntate: Mismo dígito, posición diferente

¿Qué observas?


¿Qué te preguntas?

**A**



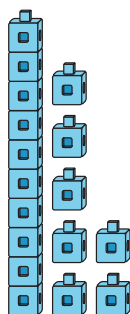
7

**B**




70

**C**



17

**D**



71

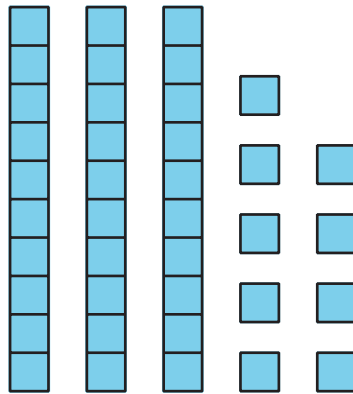
# 10.1: Escribamos números que correspondan a representaciones en base diez

Escribe el número que corresponda a cada representación.

1. 1 decena 4 unidades

Número: \_\_\_\_\_

2.



Número: \_\_\_\_\_

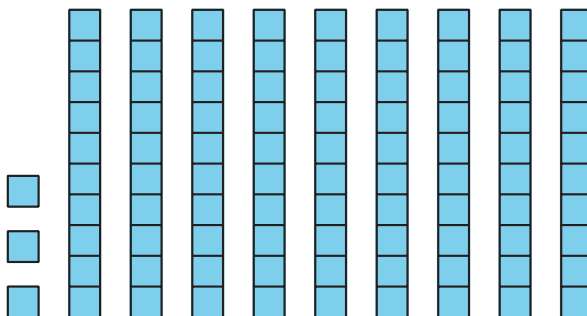
3. 9 decenas

Número: \_\_\_\_\_

4.  $20 + 5$

Número: \_\_\_\_\_

5.



Número: \_\_\_\_\_

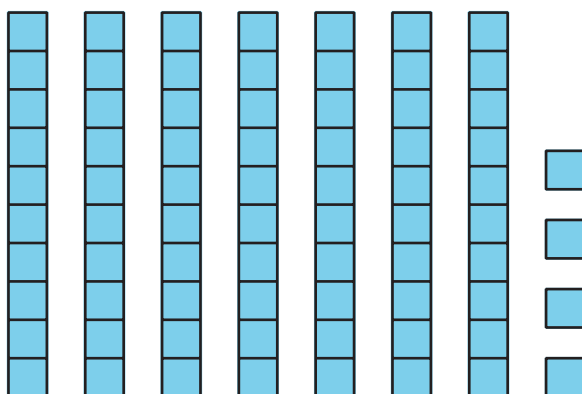
6.  $7 + 40$

Número: \_\_\_\_\_

7. 2 unidades 8 decenas

Número: \_\_\_\_\_

8.




Número: \_\_\_\_\_

9.  $1 + 40$

Número: \_\_\_\_\_

10.



Número: \_\_\_\_\_