

**Grado 1 Unidad 5**

Lección 5

CC BY 2021 Illustrative Mathematics®

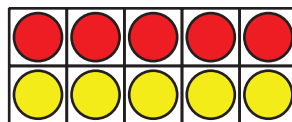
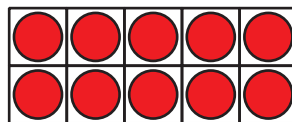
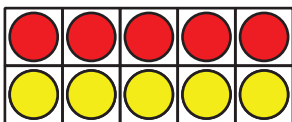
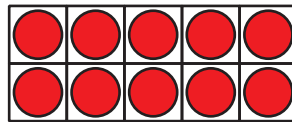
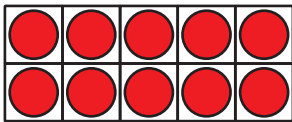


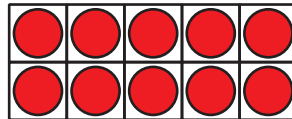
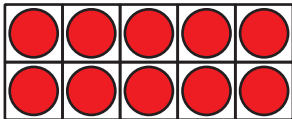
## Unit 5 Lesson 5: Formemos una decena

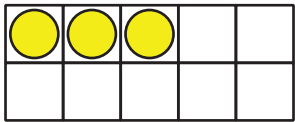
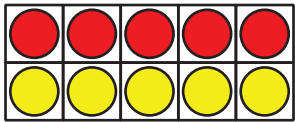
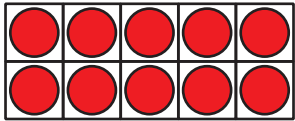



### WU Cuántos ves: Muchos tableros de 10 (Warm up)

Student Task Statement

¿Cuántos ves?

¿Cómo lo sabes?, ¿qué ves?





## 1 Escojamos una manera de sumar

### Student Task Statement

Encuentra el valor de  $8 + 47$ .

Muestra cómo pensaste. Usa dibujos, números o palabras.

## 2 Súmalas, compañero

### Student Task Statement

Ronda de práctica:

Muestra cómo pensaste. Usa dibujos, números o palabras.

Ecuación: \_\_\_\_\_



Ronda 1:

Muestra cómo pensaste. Usa dibujos, números o palabras

Ecuación: \_\_\_\_\_

Ronda 2:

Muestra cómo pensaste. Usa dibujos, números o palabras.

Ecuación: \_\_\_\_\_

Ronda 3:

Muestra cómo pensaste. Usa dibujos, números o palabras.

Ecuación: \_\_\_\_\_

Ronda 4:

Muestra cómo pensaste. Usa dibujos, números o palabras.

Ecuación: \_\_\_\_\_

Ronda 5:

Muestra cómo pensaste. Usa dibujos, números o palabras.

Ecuación: \_\_\_\_\_

### 3 El profesor de Tyler (Optional)

#### Student Task Statement

1. El profesor de Tyler recolectó 37 dólares para la excursión de la clase.  
Después, alguien trajo 7 dólares más.  
¿Cuánto dinero recolectó el profesor de Tyler?  
Muestra cómo pensaste. Usa dibujos, números o palabras.
2. El profesor de Tyler necesita saber si todos sus estudiantes están en el salón.  
Hay 8 estudiantes sentados en las mesas y 26 estudiantes están en la alfombra.  
¿Cuántos estudiantes hay en el salón?  
Muestra cómo pensaste. Usa dibujos, números o palabras.