

Grado 1 Unidad 7

Lección 7

CC BY 2021 Illustrative Mathematics®



Unit 7 Lesson 7: Juntemos figuras planas

WU Observa y pregúntate: Perros (Warm up)

Student Task Statement

¿Qué observas?

¿Qué te preguntas?



1 Construyamos con fichas geométricas

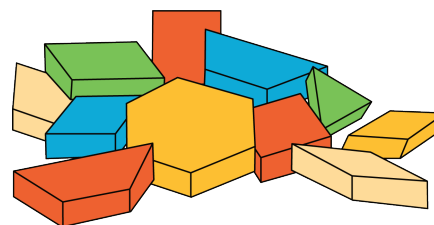
Student Task Statement

2 Imágenes de figuras

Student Task Statement

1. Construye algo usando las fichas geométricas.

Traza lo que hiciste y escribe cuántas fichas geométricas usaste.



2. Arma el mismo objeto que hiciste usando fichas geométricas diferentes.

Escribe cuántas fichas geométricas usaste.

Si te queda tiempo: construye el mismo objeto otra vez usando la mayor cantidad de fichas geométricas que puedas.

Escribe cuántas fichas geométricas usaste.

3 Conozcamos “Libros de imágenes: Encuentra figuras”

Student Task Statement