

Grado 1 Unidad 7

Lección 14

CC BY 2021 Illustrative Mathematics®

Unit 7 Lesson 14: La mitad del reloj

WU Conversación numérica: Trabajemos con el 30 (Warm up)

Student Task Statement

Encuentra mentalmente el valor de cada expresión.

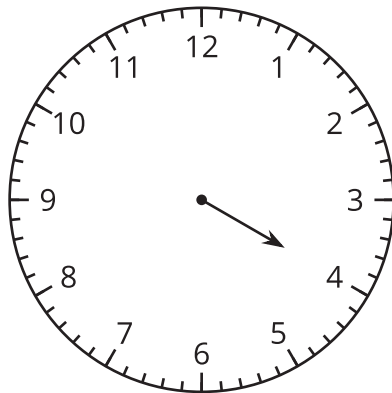
- $30 + 10$
- $30 + 15$
- $30 + 30$
- $30 + 35$

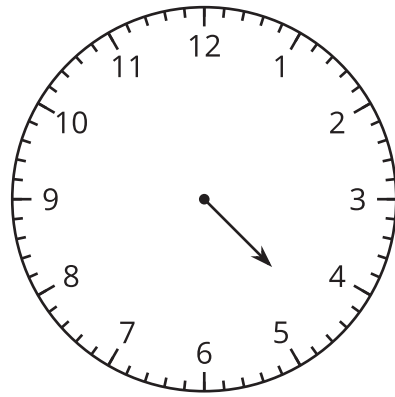
1 Ordenemos horas

Student Task Statement

¿Qué observas?

¿Qué te preguntas?





2 ¿Qué hora y media?

Student Task Statement

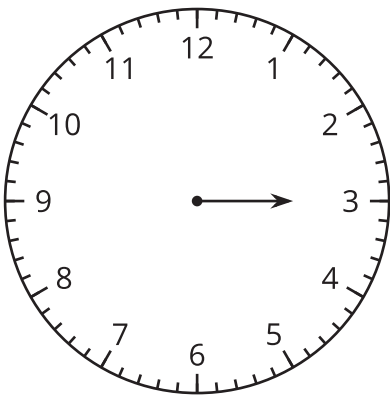
¿Qué hora se muestra en cada reloj?

Si es una hora y media, colorea de rojo el reloj.

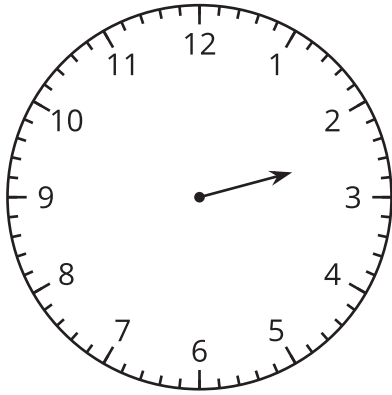
Si es una hora en punto, colorea de azul el reloj.

Escribe la hora en palabras. Usa las palabras **y media** o **en punto**.

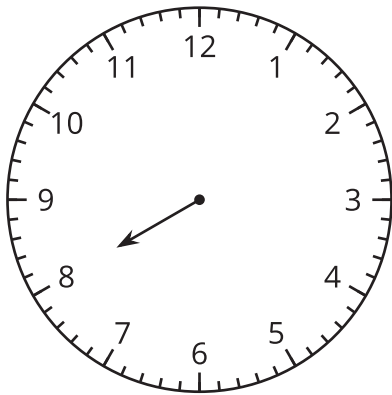
1.



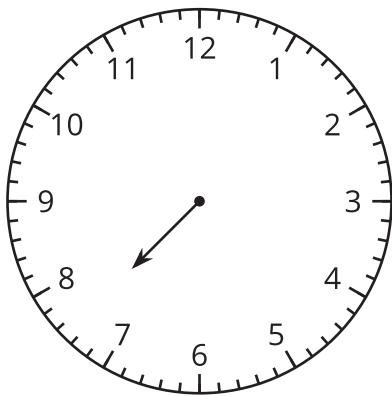
2.



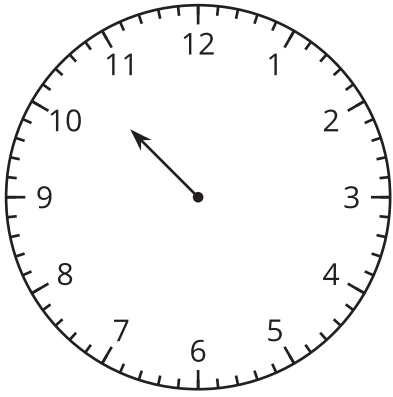
3.



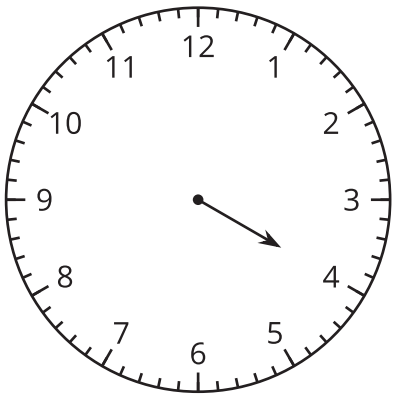
4.



5.



6.



3 Observa y pregúntate: Las manecillas del reloj giran y giran

Student Task Statement

