

Grado 1 Unidad 7

Lección 16

CC BY 2021 Illustrative Mathematics®

Unit 7 Lesson 16: Horas difíciles

WU Conversación numérica: Decenas y unidades (Warm up)

Student Task Statement

Encuentra mentalmente el valor de cada expresión.

- $8 + 32$
- $8 + 33$
- $8 + 38$
- $8 + 48$

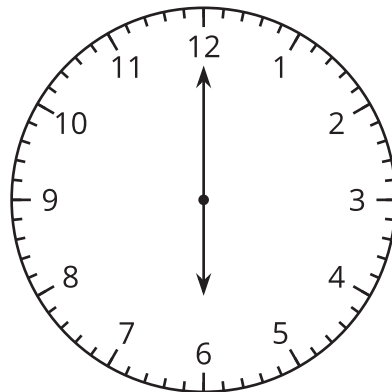
1 ¿Qué hora es?

Student Task Statement

2 Dime otra vez, ¿qué hora es?

Student Task Statement

1.

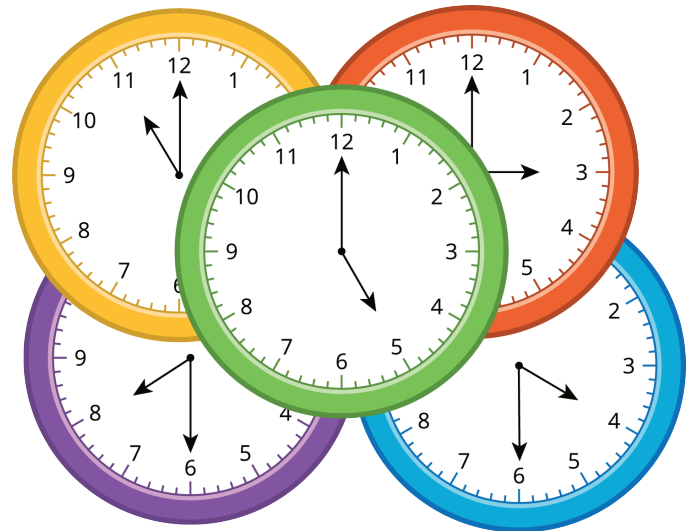
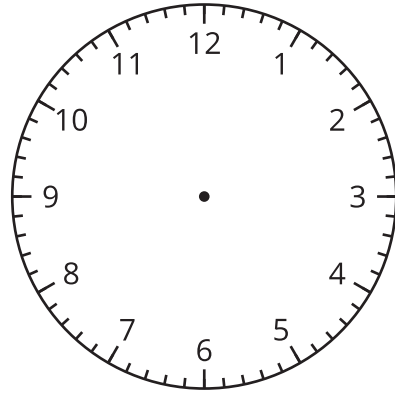


Diego dice que este reloj muestra las 6:00.

Priya dice que el reloj muestra las 12:30.

¿Con quién estás de acuerdo? ¿Por qué?

Síntesis:



3 El horario del domingo

Student Task Statement

Llena los espacios en blanco para mostrar tu horario de un domingo perfecto.

Hora

Actividad

Reloj

:

